


Konkurs
„Poznajmy nasze lasy i ojczystą przyrodę”
X edycja 2023/2024 - Etap I (szkolny)
15 stycznia 2024

Imię i nazwisko:

Ilość punktów: z 46 pkt.

*Przed sobą masz test składający się z 25 pytań, za które możesz otrzymać 44 pkt. W każdym pytaniu zamkniętym jest **tylko jedna poprawna odpowiedź**, zakreśl ją. Pytania czytaj uważnie. Nie spiesz się. Na rozwiązanie testu masz 40 minut. POWODZENIA!*

1. Liście i owoc jakiego drzewa przedstawione są na ilustracjach? (1 pkt)
- a. jesion wyniosły
 - b. buk zwyczajny
 - c. leszczyna pospolita




2. Ile Parków Narodowych leży nad Bałtykiem? (1 pkt)
- a. 1
 - b. 2
 - c. 3
3. Gatunkiem iglastym drzewa, który zrzuca igły na zimę jest: (1 pkt)
- a. modrzew
 - b. jodła
 - c. świerk
4. Bagno zwyczajne to: (1 pkt)
- a. gatunek rośliny
 - b. teren trwale podmokły
 - c. inaczej torfowisko

5. Zaznacz województwo, w którym istnieje Park Narodowy: (1 pkt)
- a. Łódzkie
 - b. Opolskie
 - c. Mazowieckie
6. Remiza śródpolna to: (1 pkt)
- a. ostoja dla zwierząt
 - b. miejsce, w którym znajduje się wodopój zwierząt
 - c. remiza strażacka poza terenem zabudowanym
7. Kolce: (1 pkt)
- a. to to samo co ciernie
 - b. ma np. róże
 - c. ma np. tarninę
8. Do odbiórki drewna na składzie służy leśnikowi: (1 pkt)
- a. Taśma, klupa, cechówka i rejestrator
 - b. Taśma, wysokościomierz i rejestrator
 - c. Taśma, rysopak, odbiornik GPS.
9. Czy drzewa iglaste mogą prowadzić fotosyntezę w zimie? (1 pkt)
- a. drzewa iglaste prowadzą fotosyntezę cały rok na takim samym poziomie
 - b. mogą, ale ogranicza ją między innymi niską temperaturą i krótki dzień
10. Dopasuj szczyt górski do Parku Narodowego. (4 pkt)
- | | | |
|----------------------|--------|-------------------|
| Trzy Korony | 1..... | a. Tatrzański PN |
| Diablak | 2..... | b. Gorczański PN |
| Świnica | 3..... | c. Babiogórski PN |
| Jaworzyna Kamienicka | 4..... | d. Pieniński PN |
11. Czym zajmuje się leśniczy? (1 pkt)
- a. ścinką drzew
 - b. zarządzaniem, gospodarowaniem i ochroną lasu na powierzonym mu terenie
 - c. zarządzaniem nadleśnictwem

12. Połącz pokrój drzewa z owocem.

(5 pkt)



13. Drzewa tak samo jak ludzie czasami chorują. Poniżej wymieniono nazwy chorób drzew lub zwierząt. Dopasuj je. (5 pkt)

drzewa:

zwierzęta:.....

- a. rdza
- b. albinizm
- c. huba
- d. wścieklizna
- e. osutka

14. Charakterystycznym gatunkiem drzewa dla olszyny karpackiej jest: (1 pkt)

- a. olsza szara
- b. olsza czarna
- c. wierzba krucha

15. Przyporządkuj podane cechy do bociana czarnego lub bociana białego. (5 pkt)

Bocian czarny:.....

Bocian biały:.....

- a. jest gatunkiem rzadkim w Polsce
- b. jest gatunkiem pospolitym w Polsce
- c. najczęściej gniazda zakłada blisko ludzi, np. na słupach telefonicznych
- d. rzadko klekocze
- e. jest gatunkiem leśnym

16. Ochrona zwierząt wymaga poznania ich liczebności na danym terenie. Pozwala to zdecydować jakie podejmować działania by zachować równowagę ekosystemu. Przyporządkuj metody liczenia do gatunku: (4 pkt)

- | | | |
|--------------|---------|------------------------------|
| 1. wilk | 1..... | a. liczenie na przelotach |
| 2. głuszc | 2 | b. wyznaczanie areałów watah |
| 3. krzyżówka | 3..... | c. liczenie nor lęgowych |
| 4. lis | 4..... | d. rejestracja tokowisk |

17. Rozpierzaczem leśnicy nazywają: (1 pkt)

- a. drzewo, które rosnąc na boki zabiera przestrzeń życiową swoim sąsiadom
- b. najstarsze drzewo z drzewostanu
- c. drzewo, które rośnie na polanie

18. Do ptaków łownych, czyli takich na które się poluje, należą: (1 pkt)

- a. kaczka krzyżówka i sikorka bogatka
- b. bocian czarny i kruk
- c. kuropatwa i bażant

19. Obrazek przedstawia ptaka żyjącego w Tatrach i Pieninach. W Polskiej Czerwonej Księdze jego status to krytycznie zagrożony. Ten ptak to: (1 pkt)

- a. kruk
- b. kowalik
- c. pomurnik



20. Co wpływa na zły stan populacji rodzimych gatunków raków w polskich rzekach? (1 pkt)
- a. choroby np. dżuma racza i pojawienie się inwazyjnych gatunków obcych
 - b. dbanie o czystość i dziki charakter rzek
 - c. objęcie ochroną prawną i wypuszczanie raków do rzek (reintrodukcja)

21. Wymień 4 podstawowe gatunki drzew leśnych w Nadleśnictwie Nowy Targ i Krościenko. Wybierz je spośród niżej wymienionych. (4 pkt)

sosna, świerk, dąb, wiśnia, jarząb, buk, jodła, olsza

- a.
- b.
- c.
- d.

22. Kłusownictwem jest: (1 pkt)


- a. kiedy myśliwy poluje na dziką
- b. łowienie ryb bez Karty Wędkarskiej
- c. kiedy kierowca potrąci sarnę

23. Ptakami synantropijnymi, czyli takimi które przystosowały się do życia blisko człowieka, są: (1 pkt)

- a. gęś zbożowa i kaczka krzyżówka
- b. orlik krzykliwy i bocian czarny
- c. jaskółka oknówka i sikorka bogatka

24. Obrazek przedstawia żerowisko:

- a. cetyńca wielkiego
- b. jelonka rogasza
- c. kornika drukarza



(1 pkt)

25. Skorusa to gwarowa nazwa: (1 pkt)

- a. jarzęba
- b. buka
- c. świerka